

Défi mathématiques
CP n°3

Département
du
Loiret

Nom de l'école :

Nom de l'enseignant(e) :

Prénoms des élèves du groupe :

JOKER :

Numération

Géométrie

Logique

1

Le compte est bon

6 étiquettes nombres sont proposées, tu dois trouver
en utilisant celles dont tu as besoin.

31

Chaque étiquette nombre ne peut être utilisée **qu'une seule fois**.

6
points

Tu **peux** utiliser les opérations suivantes :

-

+

Étiquettes/nombres

25

50

10

9

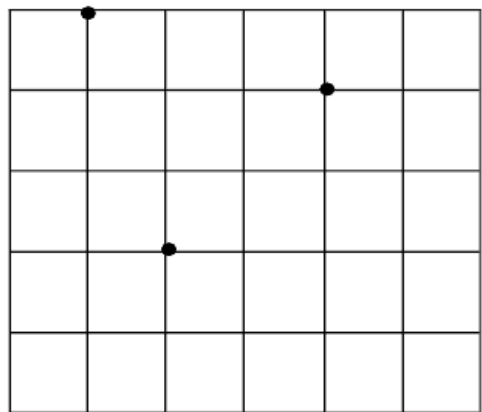
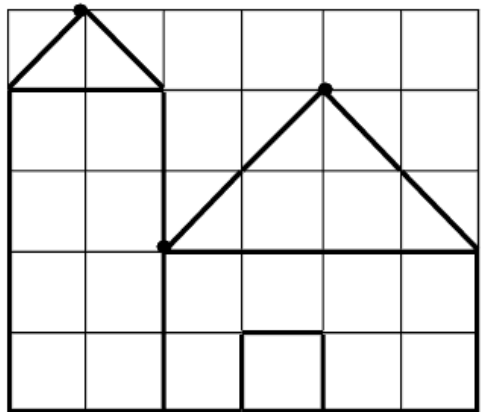
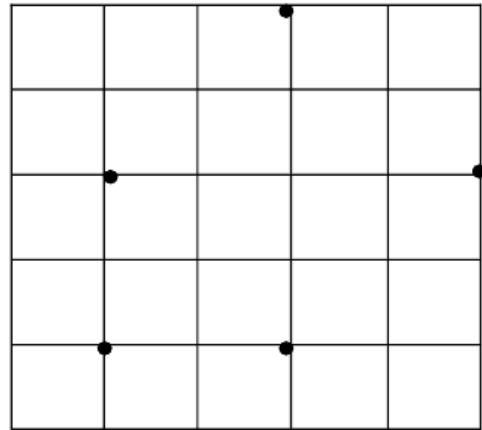
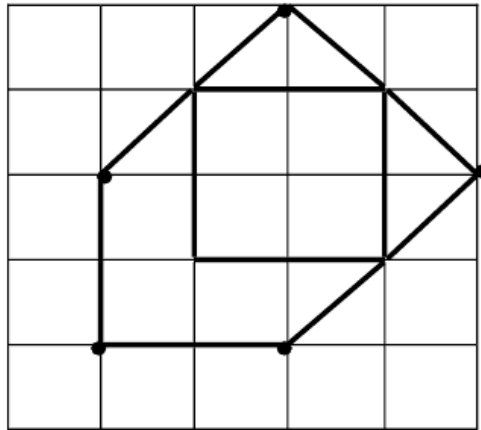
2

7

Réponse :

1 Reproduis les figures.


8 points



Sudoku

1 Complétez la grille.

On doit retrouver les nombres **1, 2, 3** sur chaque ligne et chaque colonne.



5
points